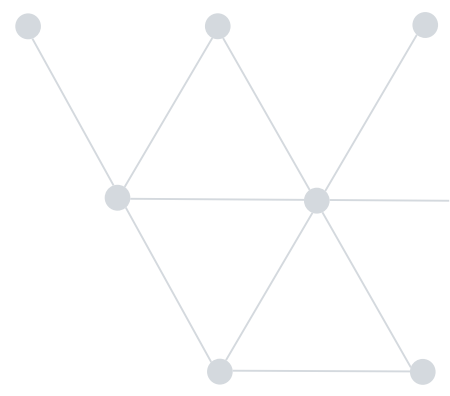




T.C.
TEKİRDAĞ VALİLİĞİ
İL MİLLÎ EĞİTİM MÜDÜRLÜĞÜ
ÖLÇME DEĞERLENDİRME MERKEZİ



2020-2021

4. Sınıf

Sosyal Bilgiler



Konu
Tarama
Testi

I. Dönem
Genel Tekrar

2023 Eğitim
VİZYON



KTT-1

1. Kimlik belgemizde bulunan hangi bilgi diğer insanların kimlik belgesinde bulunan bilgiyle aynı olamaz?

- A) Adı ve soyadı
- B) T.C. kimlik numarası
- C) Doğum tarihi
- D) Geçerlilik tarihi

2. Olayların oluş tarihlerine göre sıraya konulmasına "kronoloji" denir. Olayları kronolojik sıraya koymamız aile tarihimizi öğrenmemizi kolaylaştırır.

Aşağıdaki olaylar kronolojik olarak sıralandığında hangisi ilk sırada yer alır?

- A) Ablamın dünyaya gelişi
- B) Babamın okula başlaması
- C) Annem ile babamın evlenmesi
- D) Anneannem ile dedemin evlenmesi

3. Aşağıdaki kartlarda her öğrenci kendisi ile ilgili bilgiler vermiştir.



Uras

Doğayı çok seviyorum.
Yemyeşil çimlere uzanıp
müzik dinlemek çok keyifli.



Nisa

Beden eğitimi dersinde
koşturduğum için çok susadım
ve teneffüste su aldım.



Fatih

Göbeklitepe Örenyeri'ni
ziyaret ettikten sonra eve
gelip gördüklerimin resmini
çizdim. Bu resim ile katıldığım
yarışmada başarı elde ettim.

Buna göre öğrencilerin kendileriyle ilgili belirttiği ifadelerin "ilgi", "ihtiyaç" ve "yetenek" yönünden doğru eşleştirmesi aşağıdakilerin hangisidir?

A)

| | |
|-------|---------|
| Uras | İlgi |
| Nisa | Yetenek |
| Fatih | İhtiyaç |

B)

| | |
|-------|---------|
| Uras | İlgi |
| Nisa | İhtiyaç |
| Fatih | Yetenek |

C)

| | |
|-------|---------|
| Uras | Yetenek |
| Nisa | İhtiyaç |
| Fatih | İlgi |

D)

| | |
|-------|---------|
| Uras | İhtiyaç |
| Nisa | İlgi |
| Fatih | Yetenek |

4. Nasrettin Hoca evinin damında çalışırken dengesini kaybederek damdan düşmüş. Komşuları koşarak gelmişler. Biri doktor çağırılacak derken diğeri başka bir şey söylemiş. Konuşmalar sürerken Nasrettin Hoca, acıyan belini tutarak "Bırakın tartışmayı. Bana daha önce damdan düşmüş birini bulun." demiş.

Yukarıdaki metinde Nasrettin Hoca'nın dile getirmeye çalıştığı kavram aşağıdakilerden hangisidir?

- A) Sevgi
- B) Saygı
- C) Empati
- D) Hoşgörü

5.



Benim adım Mert. Neşeli ve arkadaşlarımla beraber oyun oynamayı çok seven biriyim. En yakın sınıf arkadaşım Mehmet ise sessiz ve çekingen biri. Mehmet herkesin çok beğendiği resimler yapabiliyor. Ben ise yan flüt çalmayı çok seviyorum. En büyük hayalimiz Mehmet'in resim sergisi açılışını yaparken benim de yan flüt konseri ile eşlik etmem.

Buna göre Mert ve Mehmet hakkında aşağıdakilerden hangisi söylenebilir?

- A) Farklı okullara gitmektedirler.
- B) İlgi ve yetenekleri birbirine benzerdir.
- C) Kişisel özellikleri birbirine benzerdir.
- D) Farklılıklarına rağmen çok iyi arkadaşlardır.

6. Ece, aile tarihini çok merak etmektedir. Bu nedenle ailesinin tarihini araştırmaya yönelmiş ve birtakım kaynaklardan araştırmalar yapmıştır.

Aşağıdakilerden hangisi, Ece'nin aile tarihini öğrenmek için yararlandığı kaynaklardan biri olamaz?

- A) Ailesi ile birlikte ziyaret etmeyi planladığı müzeler
B) Aile büyüklerinin geçmişe yönelik anlattıkları
C) Aile bireylerinin eskiye yönelik tuttuğu notlar
D) Aile büyüklerinden kalan fotoğraflar
7. "Millî kültürümüzü yansıtan öğeleri yalnızca evlerimizde değil çevremizde de görebiliriz. Bunlar mahallemizdeki tarihi bir yapı, şehrimizin meydanındaki bir anıt veya çarşıda, pazarda satılan el işi ürünler olabilir. Millî kültür öğelerimizi görebileceğimiz yerlerden biri de pek çok şehrimizde bulunan etnografya müzeleridir."

Bu açıklamaları yapan Meral Öğretmen, öğrencilerinden bir sonraki ders için etnografya müzesinde sergilenen millî kültür öğeleri ile ilgili görseller getirmelerini istemiştir.

Buna göre, öğrencilerin getirdiği görsellerden hangisi etnografya müzelerinde sergilenmez?



8. Aşağıda topaç ve topaç oyunuyla ilgili bir tablo verilmiştir.

| | Geçmiş | Günümüz |
|--------------------------------------|--|--|
| TOPAÇ VE TOPAÇ OYUNU |  |  |
| Topacın Yapımında Kullanılan Malzeme | Ahşap ve pamuk ip | Plastik |
| Topacı Oyun İçin Hazırlama | İpin bir ucu parmağa bağlanır. Diğer ucu topacın sivri kısmından gövdesine doğru sarılır. | Kurma aracı kurulum. |
| Oyun Kuralları | Oyuncular topaçlarını aynı anda çevirmeye başlar. Kimin topacı daha uzun süre dönerse oyunu o kazanır. | Oyuncular topaçlarını aynı anda çevirmeye başlar. Kimin topacı daha uzun süre dönerse oyunu o kazanır. |

Buna göre topaç ve topaç oyununda geçmişten günümüze gerçekleşen değişim ile ilgili aşağıdakilerden hangisi söylenebilir?

- A) Topaç oyununun kuralları değişmiştir.
 B) Topacın yapımında kullanılan malzemeler aynıdır.
 C) Günümüzdeki topaç doğal malzemeden yapılmaktadır.
 D) Topacı oyuna hazırlama aşamasında değişiklik olmuştur.
9. Atatürk'ün annesinin adı, aşağıdakilerden hangisidir?
- A) Ayşe Hanım
 B) Makbule Hanım
 C) Zübeyde Hanım
 D) Ülkü Hanım

10. Millî Mücadele sırasında gerçekleşen gelişmeler aşağıda verilmiştir.

- I. Cumhuriyet ilan edildi.
- II. Sivas'ta kongre toplandı.
- III. Erzurum'da kongre toplandı.
- IV. Türkiye Büyük Millet Meclisi açıldı.
- V. Mustafa Kemal Atatürk Samsun'a çıktı.

Bu gelişmelerin kronolojik sıralaması hangi seçenekte doğru verilmiştir?

- A) V - III - II - IV - I
- B) IV - I - V - III - II
- C) V - II - III - I - IV
- D) IV - V - II - III - I

11. **Atatürk'ün Kurtuluş Savaşı'nı başlatmak için Samsun'a çıktığı günün anısına kutladığımız millî bayramımız, aşağıdakilerden hangisidir?**

- A) Cumhuriyet Bayramı
- B) Atatürk'ü Anma ve Gençlik ve Spor Bayramı
- C) Ulusal Egemenlik ve Çocuk Bayramı
- D) Zafer Bayramı

12. Aşağıda görselleri verilen Millî Mücadele dönemi kahramanlarımız hakkında bilgiler verilmiştir.



Gördesli Makbule, Yunan ordusunun İzmir'i işgal etmesi üzerine kocası Halil Efe ile birlikte Yunanlılara karşı mücadele etmiştir.



Şerife Bacı, İnebolu'dan Kastamonu'ya karlı bir dönemde cephane taşıırken donarak şehit olmuştur.

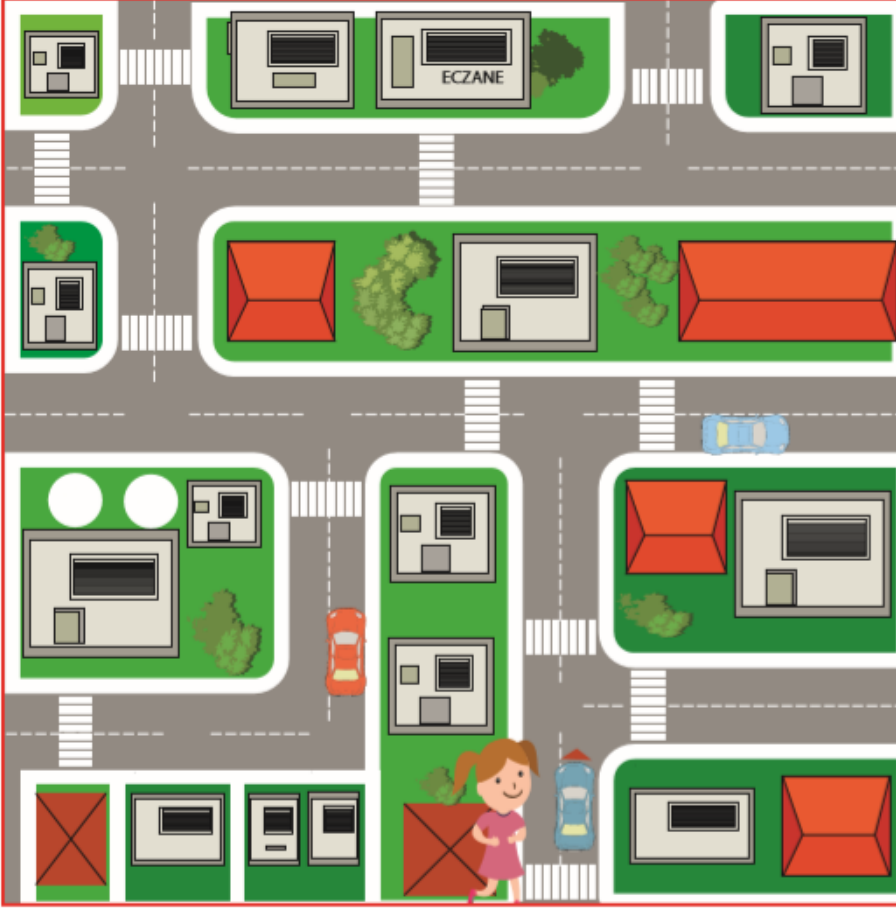


Tayyar Rahmiye Hanım, Osmaniye'de Fransız karargâhına taarruzlar düzenleyerek düşman kuvvetlerini yıpratmıştır.

Yukarıda verilen açıklamalarla ilgili hangisi söylenebilir?

- A) Kurtuluş Savaşı'nda kadınlar da katkı sağlamıştır.
- B) Kurtuluş Savaşı'nda yalnızca askerler mücadele etmiştir.
- C) Kadın kahramanlarımızın tamamı Batı Cephesi'nde yer almıştır.
- D) Bütün cephelerde sadece Kuvayımillîye birlikleri mücadele etmiştir.

13. Aşağıda Ayşe'nin oturduğu mahallenin krokisi verilmiştir.



Ayşe, kardeşinin ilaçlarını almak için yolları kullanarak eczaneye gitmiştir.

Buna göre evinden eczaneye giden Ayşe, hangi yöne doğru hareket etmemiştir?

- A) Doğu
- B) Batı
- C) Kuzey
- D) Güney

14. Aşağıda 4 bölgemizin bir günlük hava durumu verilmiştir.



Bölgelerimizdeki hava durumu ile yapılan aşağıdaki yorumlardan hangisi yanlıştır?

- A) Akdeniz Bölgesi'nde yıldırım düşmesine karşı dikkatli olunmalıdır.
- B) Doğu Anadolu Bölgesi'nde buzlanmaya karşı dikkatli olunmalıdır.
- C) Karadeniz Bölgesi'nde sel ve su taşkınlarına karşı dikkatli olunmalıdır.
- D) Marmara Bölgesi'nde çatı uçması ve ağaç devrilmesine karşı dikkatli olunmalıdır.

15.



Eskişehir aşağıdakilerden hangisi ile sınır komşusudur?

- A) Sakarya
- B) Konya
- C) Uşak
- D) Düzce

16. **Doğal Unsur** : Doğada kendiliğinden bulunur. Bunların oluşumunda insanların herhangi bir etkisi yoktur.

Beşerî Unsur: İnsan aklının ve emeğinin ürünleridir.

Yukarıdaki tanımlarla ilgili örnek verildiğinde hangisi doğru olur?

A)

| Doğal Unsur | Beşerî Unsur |
|-------------|--------------|
| Deniz | Otomobil |
| Ova | Oyun parkı |
| Bitki | Baraj |

B)

| Doğal Unsur | Beşerî Unsur |
|-------------|--------------|
| Orman | Fabrika |
| Deniz | Yol |
| Çeşme | Vadi |

C)

| Doğal Unsur | Beşerî Unsur |
|-------------|--------------|
| Göl | Oyun parkı |
| Deniz | Kütüphane |
| Ova | Akarsu |

D)

| Doğal Unsur | Beşerî Unsur |
|-------------|--------------|
| Dağ | Fabrika |
| Yol | Otomobil |
| Bitki | Havuz |

17. Ali, okulda sosyal bilgiler dersinde iken deprem olduğunu hissetmiştir. Bir anda ani bir sarsıntı olmuş ve gittikçe hızlanmaya başlamıştır.

Bu durumda Ali;

- I. Acilen sınıfı terk etmelidir.
- II. Sakinleşip derin nefes almalıdır.
- III. Başını iki elinin arasına alarak sırasının altına çömelmelidir.
- IV. Deprem sırasında yüksek sesle bağırap kaygılanmalıdır.

maddelerinden hangilerini yaparsa bilinçli davranmış olur?

- A) I ve IV
- B) II ve III
- C) I, III ve IV
- D) II, III ve IV

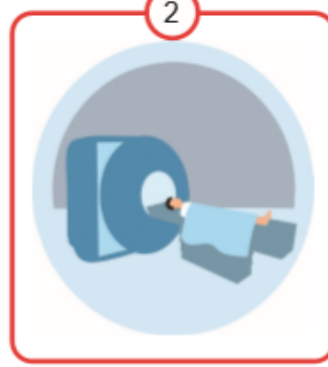
18. Sel felaketi riskini azaltmak için;

- I. Doğal bitki örtüsü korunmalıdır.
- II. Akarsu yataklarına setler yapılmalıdır.
- III. Yamaçlar teraslanarak eğim azaltılmalıdır.

önlemlerinden hangilerinin alınması gerekir?

- A) I ve II
- B) I ve III
- C) II ve III
- D) I, II ve III

19.



Yukarıda görselleri verilen teknolojik ürünlerin kullanım alanları seçeneklerin hangisinde doğru verilmiştir?

- | <u>1</u> | <u>2</u> | <u>3</u> | <u>4</u> |
|-----------------|----------|--------------|--------------|
| A) Bilgi edinme | Ulaşım | Sağlık | Temizlik |
| B) Ulaşım | Sağlık | Bilgi edinme | Temizlik |
| C) Ulaşım | Temizlik | Sağlık | Bilgi edinme |
| D) Temizlik | Sağlık | Bilgi edinme | Ulaşım |

20.




Öncesi



Sonrası

Görseli verilen aletin günümüzde yaygın olarak kullanılan hâli aşağıdakilerden hangisidir?


A)



B)



C)



D)

